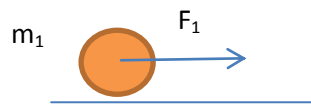


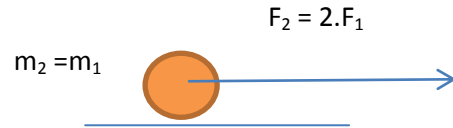
Anexo G- Cuestionario 2

Cuestionario 2

- 1- En las siguientes condiciones ¿qué cuerpo adquiere mayor aceleración? Marca la opción correcta.

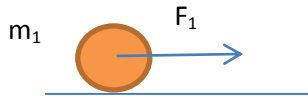


a)

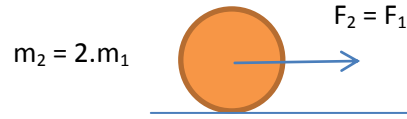


b)

- 2- En las siguientes condiciones ¿qué cuerpo adquiere mayor aceleración? Marca la opción correcta.



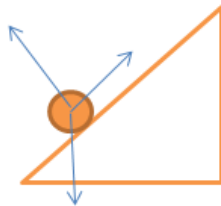
a)



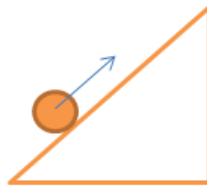
b)

- 3- Un cuerpo es empujado hacia arriba por un plano inclinado. Indicar cuál de los siguientes esquemas representa correctamente a todas las fuerzas que actúan sobre el mismo mientras asciende.

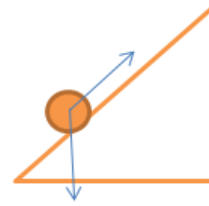
Identifica con la letra correspondiente a cada una de las fuerzas.



a)



b)



c)

En caso de no concordar con ninguno de los esquemas anteriores, propone otro:

